


**TEMSIG 2015**  
Disciplina SOLFEGGIO  
**TEST ZNANJA za 1.a kategorijo - REŠITVE**

1. Dopiši manjkajoče predznake in na črto ime lestvice. Lestvica bo zaigrana dvakrat navzgor in navzdol.



Ime lestvice: \_\_\_\_\_ HARMONIČNI d-mol \_\_\_\_\_

št. točk: 3 / \_\_\_\_

2. Na označena mesta napiši imena šestih intervalov. Napiši njihovo kvaliteto in kvantiteto. Vsak interval bo zaigran trikrat: sozvočno, razloženo in še enkrat sozvočno.

1. č4 2. m2 3. v3 4. tritonus 5. č5 6. m3

št. točk: 6 / \_\_\_\_

3. Na označena mesta napiši imena šestih akordov. Vsak akord bo zaigran trikrat: sozvočno, razloženo in še enkrat sozvočno.

1. d5/3 2. m5/3 3. zm5/3 4. m5/3 5. d5/3 6. zv5/3

št. točk: 6 / \_\_\_\_

4. Napiši **ritmično-melodični narek**, ki zajema osem taktov. Na začetku in na koncu bo narek zaigran v celoti, za tem pa bosta po dva takta zaigrana trikrat. Četrtilč bosta zaigrana skupaj z novima dvema taktoma. Dana je tonaliteta, taktovski način ter prva tona v prvem in petem taktu.



(točkuje se vsaka pravilna nota)

št. točk: 24 / \_\_\_\_

5. Napiši **ritmični narek**, ki zajema osem taktov. Vsaka dva takta bosta izvedena trikrat. Na koncu bo narek izveden v celoti.




(točkuje se vsaka pravilna doba)

št. točk: 16 / \_\_\_\_

## Drugi del testa:

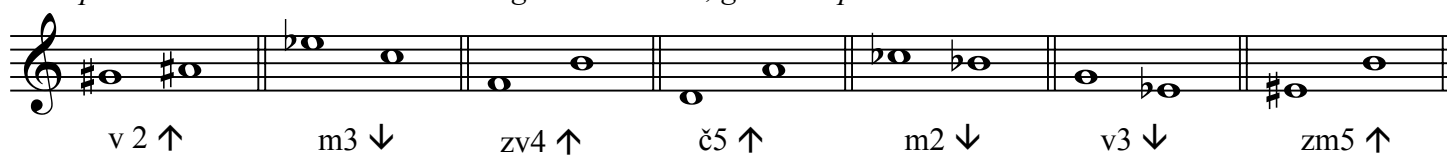
6. Napiši:

- Es-dur* lestvico navzgor in navzdol, začni z *es1*,
- melodično *h-mol* lestvico navzgor in navzdol, začni s *h*.



št. točk: 4 / \_\_\_\_

7. Napiši **intervale** na danih tonih navzgor ali navzdol, glede na puščico.



št točk: 7 / \_\_\_\_

8. V notno črtovje napiši **dane akorde** navzgor.



št točk: 7 / \_\_\_\_

9. Prevedi spodnja izraza oz. oznaki:

a) legato: \_\_\_\_\_ vezano \_\_\_\_\_

b) mezzoforte: \_\_\_\_\_ srednje glasno \_\_\_\_\_

št. točk: 2 / \_\_\_\_