


TEMSIG 2015
Disciplina SOLFEGGIO
TEST ZNANJA za 1.b kategorijo

REŠITVE

1. Dopiši manjkajoče predznake in na črto ime lestvice. Lestvica bo zaigrana dvakrat navzgor in navzdol.



Ime lestvice: _____ MELODIČNI C-MOL _____

št. točk: 3 / _____

2. Na označena mesta napiši imena šestih intervalov. Napiši njihovo kvaliteto in kvantiteto. Vsak interval bo zaigran trikrat: sozvočno, razloženo in še enkrat sozvočno.

1. m6 2. v3 3. v7 4. č5 5. m2 6. č4

št. točk: 6 / _____

3. Na označena mesta napiši imena šestih akordov. Vsak akord bo zaigran trikrat: sozvočno, razloženo in še enkrat sozvočno.

1. d 6/4 2. zv 5/3 3. m 6 4. zm 5/3 5. m 6/4 6. d 5/3

št. točk: 6 / _____

4. Napiši **ritmično-melodični narek**, ki zajema osem taktov. Na začetku in na koncu bo narek zaigran v celoti, za tem pa bosta po dva takta zaigrana trikrat. Četrtilič bosta zaigrana skupaj z novima dvema taktoma. Dana je tonaliteta, taktovski način ter prva tona v prvem in petem taktu.



(točkuje se vsaka nota)

št. točk: 24 / _____

5. Napiši **ritmični narek**, ki zajema osem taktov. Vsaka dva takta bosta izvedena trikrat. Na koncu bo narek izveden v celoti.




(točkuje se vsaka doba)

št. točk: 16 / _____

Drugi del testa:


6. Napiši:

- As-dur lestvico* navzgor in navzdol, začni z *as1*,
- harmonični fis-mol* navzgor in navzdol, začni s *Fis*.




št. točk: 4 / ____

7. Napiši **intervale** na danih tonih navzgor ali navzdol, glede na puščico.



št točk: 7 / ____

8. V notno črtovje napiši **dane akorde** navzgor.



št točk: 7 / ____

9. Prevedi spodnja izraza oz. oznaki:

a) Allegro: _____ hitro, veselo _____

b) fortepiano (fp): _____ glasno in takoj tiho _____

št. točk: 2/ ____