

TEMSIG 2021


Disciplina SOLFEGGIO TEST ZNANJA za 1.a kategorijo

IME IN PRIIMEK: _____ ŠOLA: _____

Prvi del testa

V prvem delu poteka reševanje nalog po nareku.
Dobro preberi navodila pri vsaki nalogi. Srečno! :)

1. Dopiši manjkajoče predznake in na črto napiši ime lestvice. Lestvica bo zaigrana dvakrat navzgor in navzdol.



Ime lestvice: _____

št. točk: ___ / 3

2. Na označena mesta napiši kvaliteto in kvantiteto štirih zaigranih **INTERVALOV**.
Vsak interval bo zaigran trikrat: sozvočno, razloženo in še enkrat sozvočno.

1. _____ 2. _____ 3. _____ 4. _____

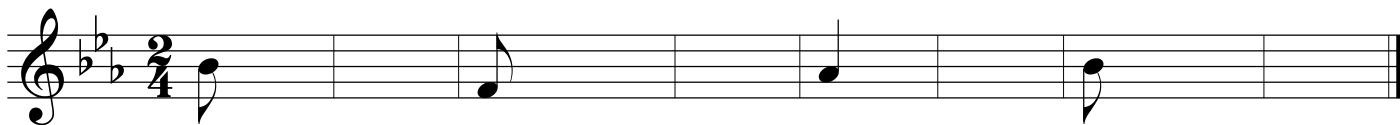
št. točk: ___ / 4

3. Na označena mesta napiši kvaliteto in kvantiteto štirih zaigranih **AKORDOV**.
Vsak akord bo zaigran trikrat: sozvočno, razloženo in še enkrat sozvočno.

1. _____ 2. _____ 3. _____ 4. _____

št. točk: ___ / 4

4. Napiši **ritmično-melodični** narek, ki zajema osem taktov. Na začetku in na koncu bo narek zaigran v celoti, sicer bo vsako dvotaktje zaigrano dvakrat zapored, tretjič po presledku, četrtič pa v povezavi z novima dvema taktoma. Dana je tonaliteta in taktovski način ter prvi ton v prvem, tretjem, petem in sedmem taktu.



št. točk: ___ / 8

5. Napiši **ritmični narek**, ki zajema osem taktov. Vsaka dva takta bosta izvedena dvakrat zapored, tretjič po presledku. Na koncu bo narek izveden v celoti.



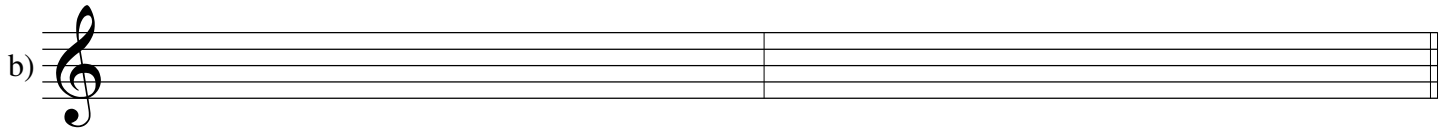
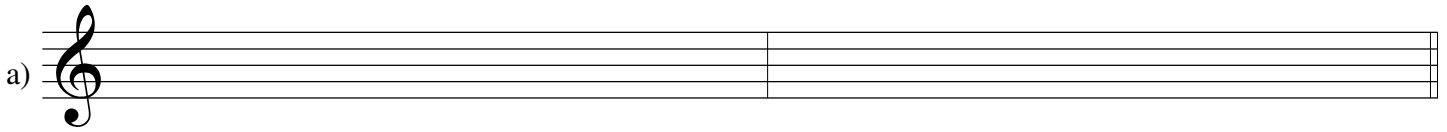
št. točk: ___ / 8

Drugi del testa

6. Napiši:


a) *c*-molovo harmonično lestvico navzgor in navzdol, začni na *c1*,

b) *A*-durovo lestvico navzgor in navzdol, začni na *a1*.




št. točk: ___ / 4

7. Napiši *intervale* navzgor ali navzdol, glede na puščico.



št. točk: ___ / 8

8. V notno črtovje napiši *akorde* na danih tonih navzgor.



št. točk: ___ / 8

9. Prevedi spodnja izraza oz. oznaki:

a) *staccato* - _____

b) *Adagio* - _____

št. točk: ___ / 2

Število doseženih točk: _____ / 49 Odstotek doseženih točk: _____

Ocenjevalci: 1. _____ 2. _____ 3. _____