

TEST ZNANJA ZA 2A KATEGORIJU, SOLFEGGIO TEMSIG 2021

IME IN PRIIMEK: _____ ŠOLA: _____

V prvem delu testa poteka reševanje nalog po zvočnih primerih. Dobro preberi navodila pri vsaki nalogi.

1. **Tonski vrsti**, ki je napisana navzgor in navzdol, dopišite manjkajoče predznake in na črto ime lestvice oz. modusa glede na zvočni primer, ki bo zaigran dvakrat navzgor in navzdol.



Lestvica: _____

Lestvica: _____

št. točk: 4 / _____

2. **Na označena mesta napišite imena šestih intervalov.** Napišite kvantiteto in kvaliteto intervalov. Vsak interval bo dvakrat izveden sozvočno.

1. _____ 2. _____ 3. _____ 4. _____ 5. _____ 6. _____

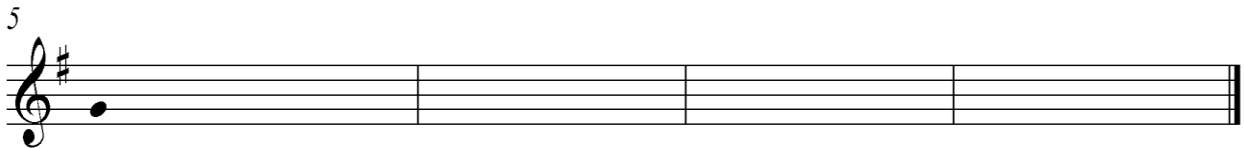
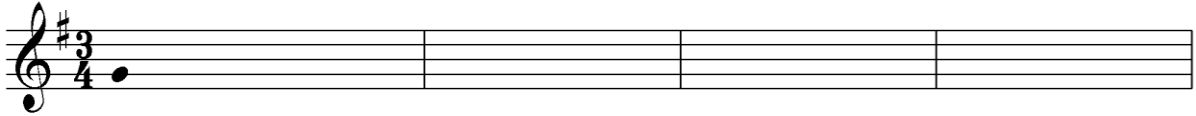
št. točk: 6 / _____

3. **Na označena mesta napišite imena šestih akordov**, ki bodo v osnovni obliki ali v obrnitvi. Vsak akord bo zaigran trikrat sozvočno.

1. _____ 2. _____ 3. _____ 4. _____ 5. _____ 6. _____

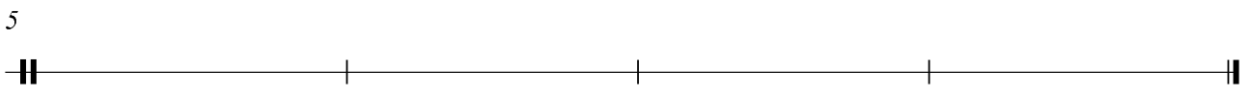

št. točk: 6 / _____

4. **Napišite ritmično melodični narek**, ki zajema osem taktov. Na začetku (in na koncu) bo narek zaigran v celoti, za tem pa bosta po dva takta zaigrana trikrat. Dvakrat zaporedoma in tretjič po daljšem presledku. Četrta bosta zaigrana skupaj z novima dvema taktoma. Dana je tonaliteta, taktovski način ter prva tona v prvem in petem taktu.



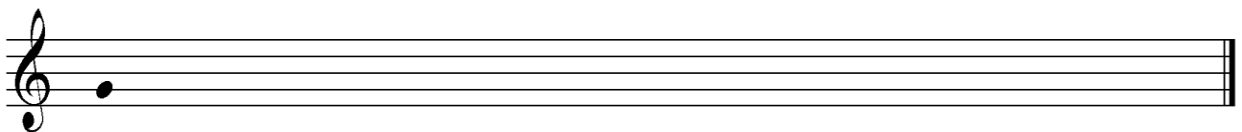
št. točk: 12 / _____

5. **Napišite ritmični narek**, ki zajema osem taktov. Vsaka dva takta bosta izvedena trikrat, dvakrat zaporedoma in tretjič po daljšem presledku. Na koncu bo narek izveden v celoti.



št. točk: 8 / _____

6. **Od izhodiščnega tona napišite intervalno melodično vrsto** brez ritmične komponente, ki bo izvedena dvakrat.

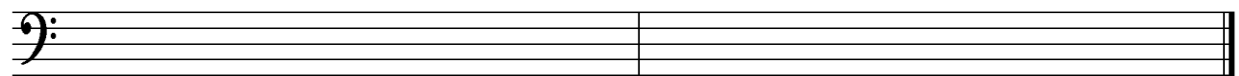
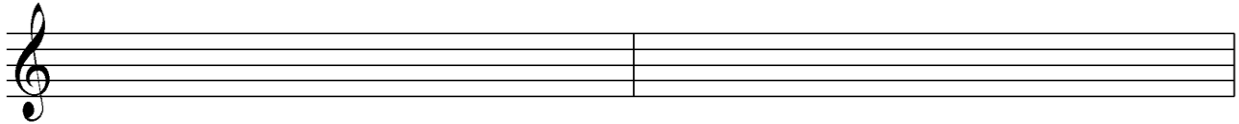


št. točk: 7 / _____

DRUGI DEL TESTA


7. Napišite:

- a) Frigijsko lestvico na G navzgor v violinskem ključu, začnite na tonu g1
- b) Dorsko lestvico na FIS navzgor v violinskem ključu, začnite na tonu fis1
- c) Harmonično H-dur lestvico navzgor in navzdol v basovskem ključu, začnite na tonu H




št. točk: 4 / _____

8. V notno črtovje napišite **dane intervale** v smeri puščice.



št. točk: 8 / _____

9. V notno črtovje napišite **dane akorde** navzgor v določenem ključu.



št. točk: 8 / _____

10. Prevedi glasbena izraza.

a) **con arco:** _____

b) **Giocoso:** _____

št. točk: 2 / _____

Število možnih točk: 65

Število doseženih točk: _____

Odstotek doseženih točk: _____

Ocenjevalci:

1. _____

2. _____

3. _____